

**ΕΠΑΝΑΛΗΠΤΙΚΕΣ ΑΠΟΛΥΤΗΡΙΕΣ ΕΞΕΤΑΣΕΙΣ
Γ' ΤΑΞΗΣ ΗΜΕΡΗΣΙΟΥ ΓΕΝΙΚΟΥ ΛΥΚΕΙΟΥ
ΤΡΙΤΗ 1 ΙΟΥΛΙΟΥ 2008
ΕΞΕΤΑΖΟΜΕΝΟ ΜΑΘΗΜΑ: ΒΙΟΛΟΓΙΑ
ΓΕΝΙΚΗΣ ΠΑΙΔΕΙΑΣ
ΣΥΝΟΛΟ ΣΕΛΙΔΩΝ: ΠΕΝΤΕ (5)**

ΘΕΜΑ 1ο

Να γράψετε στο τετράδιό σας τον αριθμό καθεμιάς από τις παρακάτω ημιτελείς προτάσεις 1 έως 5 και δίπλα το γράμμα που αντιστοιχεί στη λέξη ή στη φράση, η οποία συμπληρώνει σωστά την ημιτελή πρόταση.

1. Στα αυτοάνοσα νοσήματα ανήκει
 - α. η σύφιλη.
 - β. η γονόρροια.
 - γ. ο συστηματικός ερυθηματώδης λύκος.
 - δ. η ελονοσία.

Μονάδες 5

2. Ως δυνητικά παθογόνος μικροοργανισμός χαρακτηρίζεται
 - α. η *Escherichia coli*.
 - β. ο HIV.
 - γ. το τρυπανόσωμα.
 - δ. το πλασμώδιο.

Μονάδες 5

3. Τα ουδετερόφιλα ανήκουν στα
 - α. φαγοκύτταρα.
 - β. παθογόνα βακτήρια.
 - γ. λεμφοκύτταρα.
 - δ. πρωτόζωα.

Μονάδες 5

ΑΡΧΗ 2ΗΣ ΣΕΛΙΔΑΣ

4. Στα ετερότροφα οικοσυστήματα η εισαγωγή ενέργειας γίνεται με
- α. το άζωτο.
 - β. τη μορφή χημικών ενώσεων.
 - γ. το οξυγόνο.
 - δ. την υπεριώδη ακτινοβολία.

Μονάδες 5

5. Το έδαφος που καλύπτει το μεγαλύτερο μέρος της επιφάνειας της γης έχει προέλθει από
- α. την αποσάθρωση των πετρωμάτων.
 - β. τα ραδιενεργά απόβλητα.
 - γ. την αζωτοδέσμευση.
 - δ. τη βιοσυσσώρευση.

Μονάδες 5

ΘΕΜΑ 2ο

Να απαντήσετε στις παρακάτω ερωτήσεις:

1. Γιατί τα όσπρια (φακές, φασόλια, κ.λπ.) είναι πλούσια σε πρωτεΐνες;

Μονάδες 10

2. Σε ποια κατηγορία μικροοργανισμών ανήκουν το τρυπανόσωμα και το τοξόπλασμα, πώς μεταδίδονται και ποιες οι επιπτώσεις τους στον ανθρώπινο οργανισμό;

Μονάδες 8

3. Τι είναι η αντίστροφη μεταγραφάση και ποιος ο ρόλος της;

Μονάδες 7

ΘΕΜΑ 3ο

Σε ένα χερσαίο οικοσύστημα υπάρχουν δέκα βελανιδιές. Σε καθεμιά από αυτές ζουν 2.000 κάμπιες και 200.000 πρωτόζωα.

1. Να σχεδιάσετε και να εξηγήσετε τη μορφή της πυραμίδας που απεικονίζει τις ποσοτικές σχέσεις των παραπάνω οργανισμών.

Μονάδες 6

2. Διατηρώντας μόνο τους παραγωγούς του παραπάνω οικοσυστήματος, να σχεδιάσετε το τροφικό πλέγμα που προκύπτει με τους εξής επιπλέον οργανισμούς: ποντίκια, γεράκια, φίδια, θεωρώντας ότι το γεράκι τρέφεται με ποντίκια και φίδια.

Μονάδες 5

3. Τι είναι πρωτογενής, τι δευτερογενής παραγωγικότητα και ποιοι οργανισμοί του παραπάνω τροφικού πλέγματος τις εμφανίζουν;

Μονάδες 10

4. Τι είναι καθαρή παραγωγικότητα ενός οικοσυστήματος;

Μονάδες 4

ΘΕΜΑ 4ο

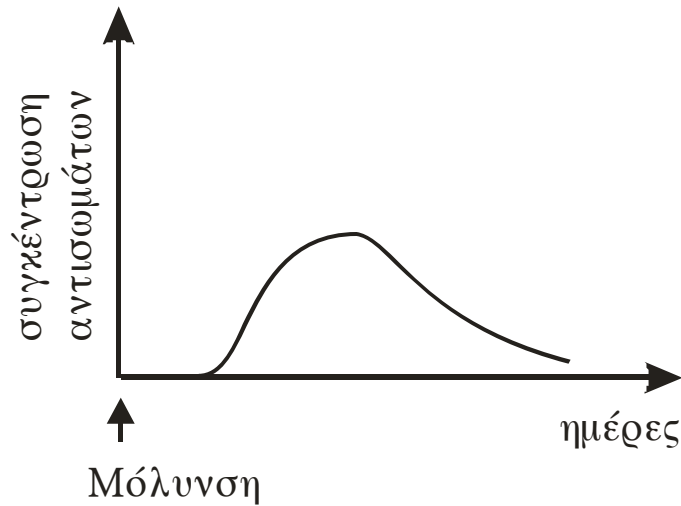
Δύο αδέρφια μολύνονται ταυτόχρονα από το ίδιο βακτήριο. Το πρώτο από τα αδέρφια είναι νεογνό, θηλάζει και δε νοσεί. Το δεύτερο, που είναι πέντε ετών, εμφάνισε λοίμωξη από το βακτήριο αυτό και νοσεί.

- α. Να εξηγήσετε γιατί το νεογνό δεν νόσησε.

Μονάδες 5

- β. Το παρακάτω διάγραμμα παρουσιάζει τη μεταβολή της συγκέντρωσης των αντισωμάτων στην περίπτωση του δεύτερου παιδιού.

ΑΡΧΗ 4ΗΣ ΣΕΛΙΔΑΣ



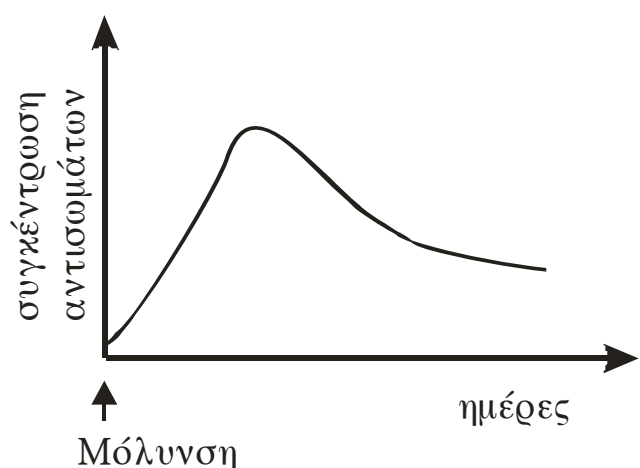
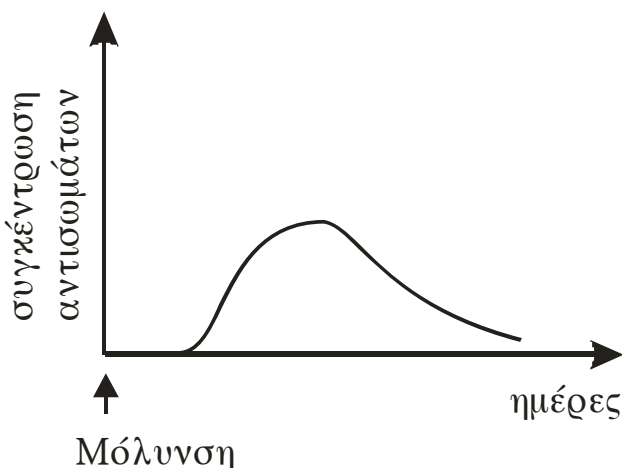
Να χαρακτηρίσετε το είδος της ανοσοβιολογικής απόκρισης και να γράψετε τα στάδια που περιλαμβάνει ονομαστικά (μονάδες 6). Να περιγράψετε τον τερματισμό της ανοσοβιολογικής απόκρισης μετά την επιτυχή αντιμετώπιση του παραπάνω βακτηρίου (μονάδες 4).

Μονάδες 10

- γ. Μετά από πέντε χρόνια τα δύο αδέλφια προσβάλλονται εκ νέου από το ίδιο βακτήριο. Τα παρακάτω διαγράμματα δείχνουν τη μεταβολή της συγκέντρωσης αντισωμάτων που αντιστοιχούν στη νέα μόλυνση.

Διάγραμμα Α

Διάγραμμα Β



Να εξηγήσετε ποιο διάγραμμα αντιστοιχεί στην ανοσοβιολογική απόκριση του κάθε παιδιού.

Μονάδες 10

ΟΔΗΓΙΕΣ ΓΙΑ ΤΟΥΣ ΕΞΕΤΑΖΟΜΕΝΟΥΣ

1. Στο τετράδιο να γράψετε μόνο τα προκαταρκτικά (ημερομηνία, εξεταζόμενο μάθημα). **Να μην αντιγράψετε τα θέματα στο τετράδιο.**
2. Να γράψετε το ονοματεπώνυμό σας στο πάνω μέρος των φωτοαντιγράφων, αμέσως μόλις σας παραδοθούν. **Καμιά άλλη σημείωση δεν επιτρέπεται να γράψετε.**
Κατά την αποχώρησή σας να παραδώσετε μαζί με το τετράδιο και τα φωτοαντίγραφα.
3. Να απαντήσετε **στο τετράδιό σας σε όλα** τα θέματα.
4. Να γράψετε τις απαντήσεις σας **μόνο με μπλε ή μόνο με μαύρο στυλό.**
5. Κάθε απάντηση επιστημονικά τεκμηριωμένη είναι αποδεκτή.
6. Διάρκεια εξέτασης: τρεις (3) ώρες μετά τη διανομή των φωτοαντιγράφων.
7. Χρόνος δυνατής αποχώρησης: μετά τη 10.00΄ πρωινή.

ΚΑΛΗ ΕΠΙΤΥΧΙΑ

ΤΕΛΟΣ ΜΗΝΥΜΑΤΟΣ