

ΑΡΧΗ 1ΗΣ ΣΕΛΙΔΑΣ –Δ΄ ΕΣΠΕΡΙΝΩΝ
ΕΠΑΝΑΛΗΠΤΙΚΕΣ ΠΑΝΕΛΛΗΝΙΕΣ ΕΞΕΤΑΣΕΙΣ
Δ΄ ΤΑΞΗΣ ΕΣΠΕΡΙΝΟΥ ΓΕΝΙΚΟΥ ΛΥΚΕΙΟΥ
ΔΕΥΤΕΡΑ 10 ΙΟΥΝΙΟΥ 2013
ΕΞΕΤΑΖΟΜΕΝΟ ΜΑΘΗΜΑ: ΒΙΟΛΟΓΙΑ ΓΕΝΙΚΗΣ ΠΑΙΔΕΙΑΣ
ΣΥΝΟΛΟ ΣΕΛΙΔΩΝ: ΤΕΣΣΕΡΙΣ (4)

ΘΕΜΑ Α

*Να γράψετε στο τετράδιό σας τον αριθμό κάθε μίας από τις παρακάτω ημιτελείς προτάσεις **A1** έως **A5** και δίπλα το γράμμα που αντιστοιχεί στη λέξη ή στη φράση, η οποία συμπληρώνει σωστά την ημιτελή πρόταση.*

- A1.** Με εκβλάστηση μπορεί να αναπαράγονται
- α. οι μύκητες
 - β. τα πρωτόζωα
 - γ. τα βακτήρια
 - δ. οι ιοί

Μονάδες 5

- A2.** Τα πολυδύναμα αιμοποιητικά κύτταρα βρίσκονται στο
- α. ήπαρ
 - β. θύμο αδένα
 - γ. νωτιαίο μυελό
 - δ. ερυθρό μυελό των οστών

Μονάδες 5

- A3.** Σύμφωνα με τη θεωρία της εξέλιξης, η μικρότερη δυνατή μονάδα, στην οποία δρα η φυσική επιλογή είναι
- α. το γονίδιο
 - β. το άτομο
 - γ. ο πληθυσμός
 - δ. το είδος

Μονάδες 5

ΑΡΧΗ 2ΗΣ ΣΕΛΙΔΑΣ –Δ΄ ΕΣΠΕΡΙΝΩΝ

- A4.** Τα είδη τα οποία μοιάζουν περισσότερο μεταξύ τους αποτελούν
- α. ένα γένος
 - β. μια οικογένεια
 - γ. μια τάξη
 - δ. μια κλάση

Μονάδες 5

- A5.** Η διαδικασία με την οποία δεν επιστρέφει από ένα οικοσύστημα διοξείδιο του άνθρακα στην ατμόσφαιρα είναι η
- α. κυτταρική αναπνοή
 - β. φωτοσύνθεση
 - γ. αποικοδόμηση
 - δ. καύση ορυκτών καυσίμων

Μονάδες 5

ΘΕΜΑ Β

- B1.** Με ποιον τρόπο οι βλεννογόνοι του σώματος συμβάλλουν στην άμυνα του οργανισμού;

Μονάδες 8

- B2.** Να αναφέρετε τις κατηγορίες και το ρόλο των βακτηρίων που συμμετέχουν στον κύκλο του αζώτου.

Μονάδες 8

- B3.** Γιατί οι παραγωγοί χαρακτηρίζονται ως αυτότροφοι οργανισμοί (μονάδες 2); Ποιες κατηγορίες οργανισμών υπάγονται στους αυτότροφους οργανισμούς (μονάδες 3);

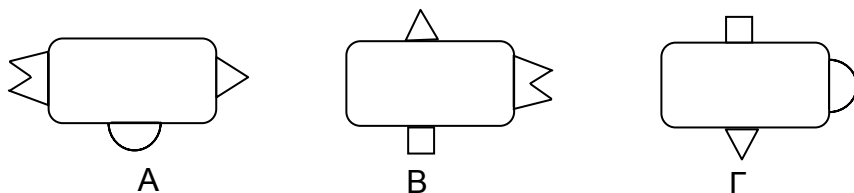
Μονάδες 5

- B4.** Ο όρος φυσική επιλογή χρησιμοποιήθηκε από τον Δαρβίνο σε αντιδιαστολή με την τεχνητή επιλογή. Τι είναι τεχνητή επιλογή και σε τι αποσκοπεί;

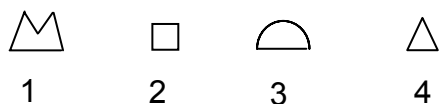
Μονάδες 4

ΘΕΜΑ Γ

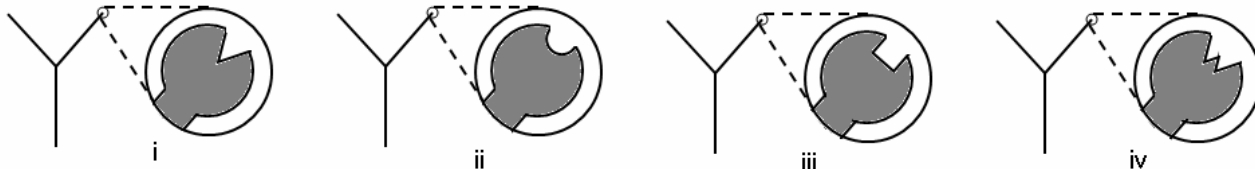
Στα παρακάτω σχήματα απεικονίζονται τρία είδη παθογόνων βακτηρίων (Σχήμα 1) και τμήματα της επιφάνειάς τους (Σχήμα 2), τα οποία μπορούν να δράσουν ως αντιγόνα στον ανθρώπινο οργανισμό. Απεικονίζονται επίσης τέσσερα διαφορετικά είδη αντισωμάτων και δίπλα στο καθένα σε μεγέθυνση μια περιοχή τους (Σχήμα 3).



Σχήμα 1: βακτήρια



Σχήμα 2: τμήματα βακτηρίου (αντιγόνα)



Σχήμα 3: αντισώματα

Γ1. Ποιο από τα παραπάνω αντιγόνα (Σχήμα 2) είναι κατάλληλο για την παρασκευή εμβολίου, το οποίο θα προστατεύει τον ανθρώπινο οργανισμό και από τα τρία είδη βακτηρίων (μονάδες 2); Να αιτιολογήσετε την απάντησή σας (μονάδες 3).

Μονάδες 5

Γ2. Να εξηγήσετε σε ποιο χαρακτηριστικό της ειδικής άμυνας στηρίζεται η λειτουργία του εμβολίου.

Μονάδες 5

Γ3. Να αναφέρετε ποια κύτταρα των μηχανισμών άμυνας του ανθρώπινου οργανισμού θα δράσουν εναντίον του αντιγόνου μετά τον εμβολιασμό.

Μονάδες 5

ΑΡΧΗ 4ΗΣ ΣΕΛΙΔΑΣ –Δ΄ ΕΣΠΕΡΙΝΩΝ

Γ4. Το κάθε ένα από τα παραπάνω είδη αντισωμάτων (Σχήμα 3) μπορεί να συνδέεται με ένα συγκεκριμένο αντιγόνο. Να εξηγήσετε πού οφείλεται αυτή η ιδιότητά τους.

Μονάδες 5

Γ5. Πώς θα δράσει το ανοσοβιολογικό σύστημα του εμβολιασμένου ατόμου, όταν αυτό έρθει σε επαφή με το ίδιο αντιγόνο ένα χρόνο αργότερα;

Μονάδες 5

ΘΕΜΑ Δ

Ένα μικρό χερσαίο οικοσύστημα αποτελείται από δύο γεράκια, μία βελανιδιά, εκατό σπουργίτια και δέκα χιλιάδες κάμπιες. Το μέσο βάρος ενός σπουργιτιού είναι 100 g. Σε κάθε τροφικό επίπεδο αυτού του οικοσυστήματος υπάρχει μόνο ένα είδος οργανισμού.

Δ1. Να σχεδιάσετε την τροφική πυραμίδα πληθυσμού (μονάδες 2). Να αιτιολογήσετε τις διαφορές που εμφανίζονται μεταξύ των τροφικών επιπέδων της παραπάνω τροφικής πυραμίδας (μονάδες 6).

Μονάδες 8

Δ2. Να υπολογίσετε τη βιομάζα όλων των τροφικών επιπέδων (μονάδες 4) και να σχεδιάσετε την τροφική πυραμίδα της βιομάζας (μονάδες 2). Να αιτιολογήσετε την απάντησή σας (μονάδες 4).

Μονάδες 10

Δ3. Στη φύση παρατηρούνται κάμπιες με κίτρινο χρώμα και κάμπιες με πράσινο χρώμα. Στο παραπάνω οικοσύστημα ζουν αποκλειστικά κάμπιες με πράσινο χρώμα που τρέφονται από τα πράσινα φύλλα της βελανιδιάς. Να ερμηνεύσετε την επικράτηση του πράσινου χρώματος της κάμπιας στο συγκεκριμένο οικοσύστημα, σύμφωνα με τη θεωρία της φυσικής επιλογής του Δαρβίνου.

Μονάδες 7

ΟΔΗΓΙΕΣ (για τους εξεταζομένους)

1. Στο εξώφυλλο του τετραδίου να γράψετε το εξεταζόμενο μάθημα. Στο εσώφυλλο πάνω-πάνω να συμπληρώσετε τα ατομικά στοιχεία μαθητή. Στην αρχή των απαντήσεών σας να γράψετε πάνω-πάνω την ημερομηνία και το εξεταζόμενο μάθημα. Να μην αντιγράψετε τα θέματα στο τετράδιο και να μην γράψετε πουθενά στις απαντήσεις σας το όνομά σας.
2. Να γράψετε το ονοματεπώνυμό σας στο πάνω μέρος των φωτοαντιγράφων αμέσως μόλις σας παραδοθούν. Τυχόν σημειώσεις σας πάνω στα θέματα δεν θα βαθμολογηθούν σε καμία περίπτωση. Κατά την αποχώρησή σας να παραδώσετε μαζί με το τετράδιο και τα φωτοαντίγραφα.
3. Να απαντήσετε στο τετράδιό σας σε όλα τα θέματα **μόνο** με μπλε ή **μόνο** με μαύρο στυλό με μελάνι που δεν σβήνει.
4. Κάθε απάντηση επιστημονικά τεκμηριωμένη είναι αποδεκτή.
5. Διάρκεια εξέτασης: τρεις (3) ώρες μετά τη διανομή των φωτοαντιγράφων.
6. Χρόνος δυνατής αποχώρησης: 18.15.

ΚΑΛΗ ΕΠΙΤΥΧΙΑ

ΤΕΛΟΣ ΜΗΝΥΜΑΤΟΣ

ΤΕΛΟΣ 4ΗΣ ΑΠΟ 4 ΣΕΛΙΔΕΣ